

1. أي تمارين من السهل حسابها شفويًا؟ إشرحوا طريقة حلكم:

أ.  $25 \times 13 \times 4$       ب.  $17 \times 2 \times 5 \times 20$

ج.  $\frac{25 \times 36 \times 16}{12 \times 3}$       د.  $86 \times 5 \times 17 \times 0$

هـ.  $\frac{18 \times 35 \times 6 \times 0 \times 5 \times 2}{18}$       و.  $\frac{840 + 160}{40}$

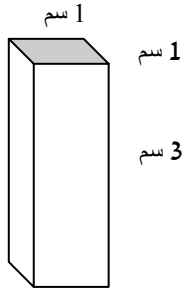
2. أكتبوا تمارين كثيرة قدر الإمكان، بواسطة الأعداد الثلاثة، وحلوها:  
(استعملوا كل الأعداد الثلاثة لكتابة كل تمرين، كل عدد مرة واحدة)

0.5    1    0.25

3. لتحضير قنينة شراب التوت، يلزم 2 كؤوس من تركيز التوت و 7 كؤوس ماء.  
أ. كم كأسًا من تركيز التوت والماء يلزم لتحضير 3 قناني شراب؟  
ب. استعملنا 10 كؤوس تركيز توت لتحضير الشراب، كم كأس ماء يلزمنا؟  
كم قنينة شراب حضرنا؟  
ج. استعملنا 36 كأسًا من تركيز التوت والماء، كم كأس تركيز توت استعملنا؟

4. معطاة مساحة كل من المستطيلات الثلاثة، أطوال الأضلاع أعداد صحيحة.  
جدوا مساحة المستطيل الرابع:

56 سم <sup>2</sup>	35 سم <sup>2</sup>
24 سم <sup>2</sup>	???



1. معطى صندوق، أبعاده: 1سم، 1سم، 3سم.

أ. أرسموا إنتشار الصندوق.



ب. أرسموا إنتشاراً آخر لنفس الصندوق.

2. استعملوا +, -, ×, ÷: وأقواساً للحصول على متساويات صحيحة:

أ.  $2 \_ 8 \_ 4 = 6 \_ 6 \_ 8$

ب.  $9 \_ 8 \_ 5 = 2 \_ 6 \_ 2$

ج.  $9 \_ 3 \_ 4 = 3 \_ 4 \_ 5$

د.  $2 \_ 8 \_ 4 = 3 \_ 8 \_ 6$

1. تمعّنوا في الأعداد التي في الجدول، حاولوا إيجاد قانونية واكملوا الأعداد الناقصة:


1	2	3	4	5	6	7	8	9	10	.....	100	101		N
2	4	6	16	10	36	14								

2. كيف يمكنكم أن تعرفوا أن حل التمارين التالية غير صحيح؟ فسّروا!

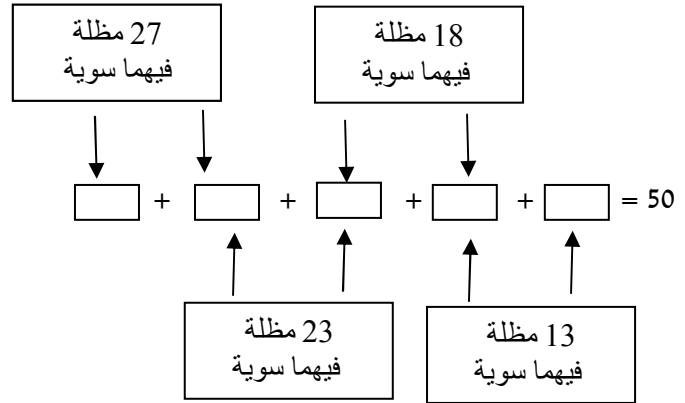
أ.  $\frac{2}{3} + \frac{3}{4} = \frac{5}{7}$       ب.  $2 : \frac{1}{4} = \frac{1}{2}$

ج.  $3 - 1\frac{1}{4} = 2\frac{3}{4}$       د.  $\frac{6}{8} - \frac{3}{4} = \frac{3}{4}$

3. أرسموا مضلعين مختلفين، بحيث يكون في كل منهما 3 أضلاع متوازية.

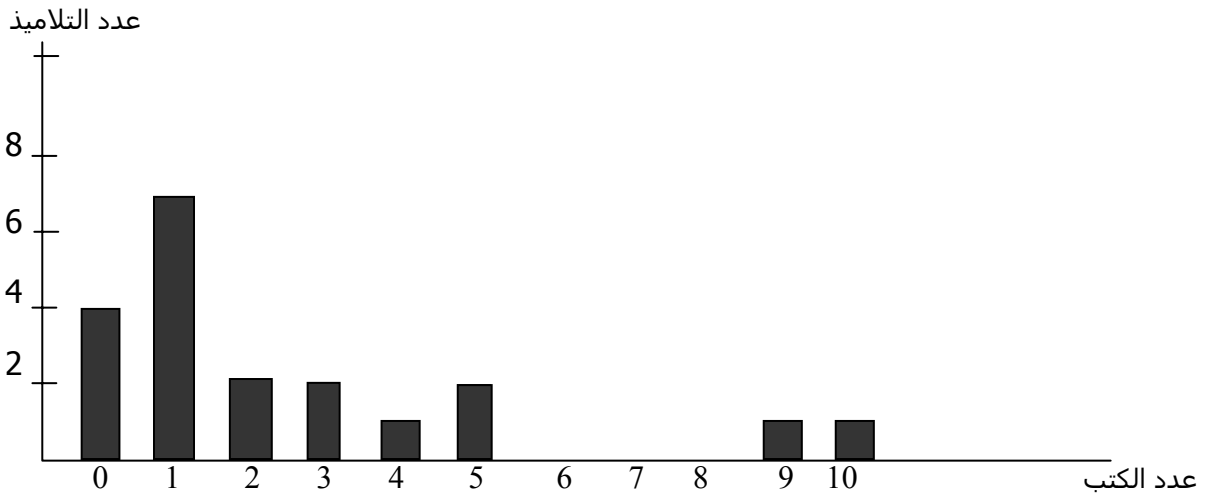


1. يوجد في دكان 50 مظلة. وضعها صاحب الدكان في 5 دلاء كما مبين في الرسم، كم مظلة يوجد في كل دلو؟



2. ثمن قرص للحاسوب 100 شاقل. من يشتري قرصين يحصل على تخفيض بنسبة 20%. كم شاقلاً سندفع إذا اشترينا قرصين؟

3. رسمت عاملة المكتبة تخطيطاً بيانياً يبين عدد الكتب التي استلفها تلاميذ الصف السادس خلال الأسبوع الأخير:



- أ. كم كتاباً استلف تلاميذ الصف السادس خلال الأسبوع؟ فسروا!  
 ب. مريم ووليد هما الوحيدان في الصف اللذان يحضران لوظيفة، كم كتاباً استلف كل منهما؟  
 ج. أحسبوا المتوسط الحسابي لعدد للكتب التي استلفها تلاميذ الصف السادس خلال الأسبوع؟  
 د. أحسبوا الوسيط لعدد الكتب التي استلفها تلاميذ الصف السادس خلال الأسبوع؟